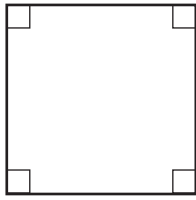


Omkrets

Mät i hela och halva centimeter. Beräkna sedan omkretsen.

1 a)

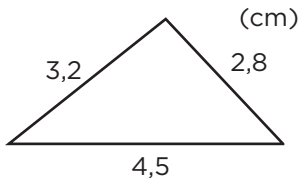


b)

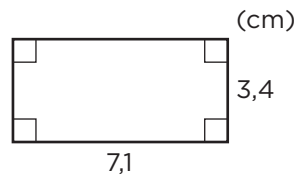


2 Beräkna omkretsen.

a)



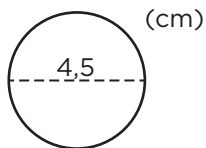
b)



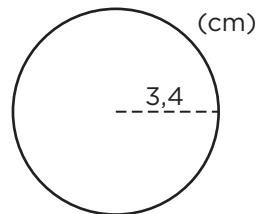
3 Beräkna cirkelns omkrets. Avrunda till hela centimeter.



a)



b)




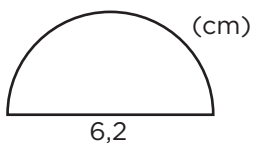
4 En cirkels omkrets är 25,5 cm.



Hur lång är diametern?

Avrunda till tiondels centimeter. _____

5 Hur lång omkrets har halvcirkeln? Avrunda till hela centimeter.



FACIT**Omkrets**

- 1 a) 10 cm
b) 11 cm
- 2 a) 10,5 cm
b) 21 cm
- 3 a) 14 cm
b) 21 cm
- 4 8,1 cm
- 5 16 cm